



MUNICÍPIO DA ESTÂNCIA BALNEÁRIA DE PRAIA GRANDE

Estado de São Paulo
SEDUC - Secretaria de Educação



ATIVIDADE 14



PONTE DO SABER


3º ano do Ensino Fundamental

1) RESPONDA A ALTERNATIVA CORRETA REFERENTE A HORA EM QUE CADA RELÓGIO ESTÁ MARCANDO



- (A) 12H E 4H30
- (B) 7H E 5H30
- (C) 9H E 7H30
- (D) 8H E 6H30

2) QUAL DOS RELÓGIOS ANALÓGICOS EXIBE O HORÁRIO SEIS E MEIA?



3) QUAL HORÁRIO ESTÁ MARCANDO NO RELÓGIOS ABAIXO?



- (A) TRÊS HORAS
- (B) SEIS HORAS E QUINZE MINUTOS
- (C) TRÊS HORAS E TRINTA MINUTOS
- (D) SEIS HORAS

4) MARIA COLOCOU UM BOLO PARA ASSAR NA HORA INDICADA NO RELÓGIO ABAIXO:



O BOLO FICOU PRONTO EM 30 MINUTOS. QUAL HORÁRIO O BOLO FICOU PRONTO?

- (A) DEZ HORAS
- (B) DEZ HORAS E TRINTA MINUTOS
- (C) TREZE HORAS
- (D) SEIS HORAS